



Клуч за Тест за регионален натпревар по географија за IX (девето)
одделение

Учебна 2023/2024 година

1. Дополни ги речениците. (секоја точен одговор носи 1 поен)

Најсеверната точка на Азија ја претставува 'ртот **Челускин** (77° СГШ) на полуостровот Тајмир, а најјужната точка - 'ртот **Буру** ($1^\circ 16'$ СГШ) на Малајскиот Полуостров. Најзападната точка се наоѓа на 'ртот **Баба** ($26^\circ 3'$ ИГД) на полуостровот Мала Азија, најисточната точка ја претставува 'ртот **Дежнева** ($169^\circ 50'$ ЗГД).

2. На картата означи ги со соодветниот број дадените поими.

(секоја точен одговор носи 1 поен)



1. Новосибирски Острови	5. Индиски Полуостров
2. Индокинески Полуостров	6. Арабиски Полуостров
3. Полуостров Камчатка	7. Јапонски Острови
4. Тајмирски полуостров	8. Чукотски Полуостров

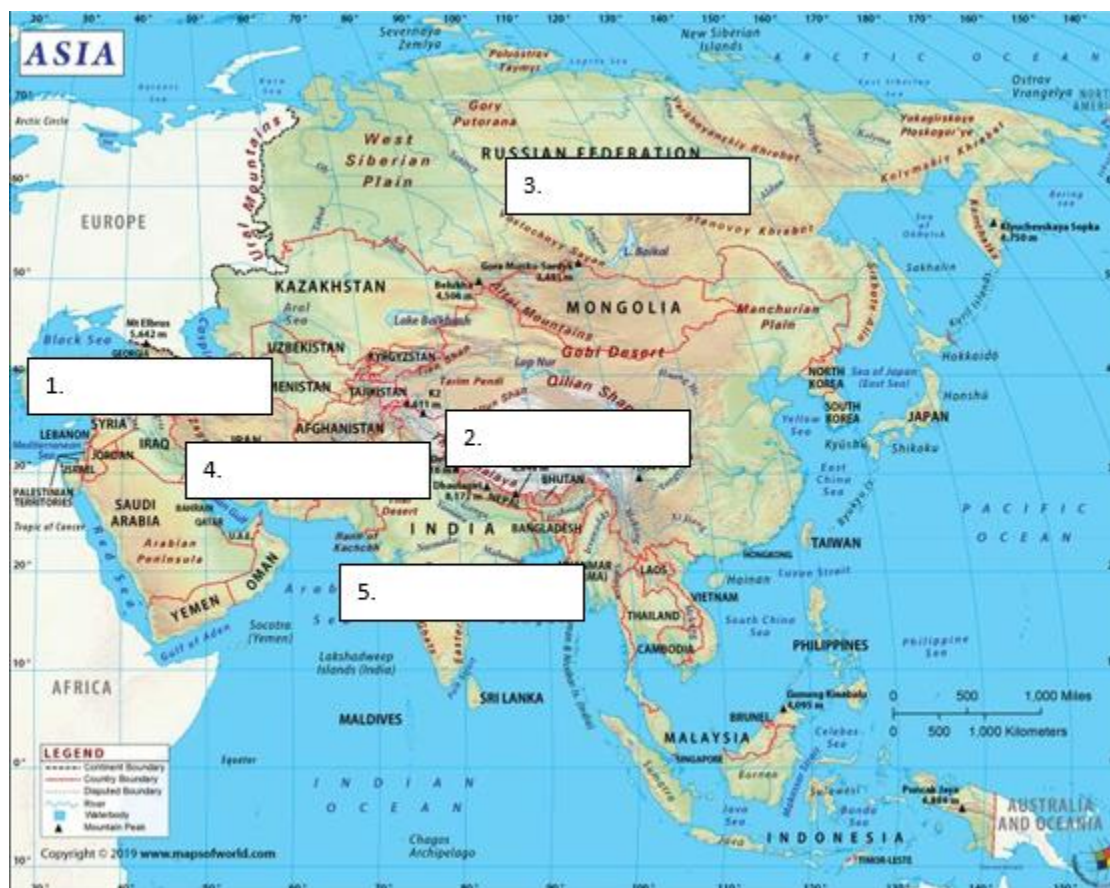
3. Дополни ја реченицата. (секоја точен одговор носи 1 поен)

Северната планинска верига од Младите верижни планини во Азија ја сочинуваат: **Понтиските Планини, Кавказ, Елбурс и Хиндукуш.**

4. На соодветното место напиши ги називите на Висорамниите во Азија.

(секоја точен одговор носи 1 поен)

1. Анадолија; 2. Тибет; 3. Средносибирска Висорамнина; 4. Иранска Висорамнина; 5. Декан



5. Дополни ја реченицата. (секоја точен одговор носи 1 поен)

Пустините се простираат во средишните и јужните делови на Азија. Во средишните делови се простираат: **Кизилкум, Каракум, Такла Макан и Гоби.** Во јужните делови се истакнуваат пустините: **Нефуд, Големата Солена Пустина и Тар.**

6. Одговори на поставените прашања. (секоја точен одговор носи 1 поен)

1. Најниска температура во Азија е измерена во **Верхојанск** (- 67,8 °Ц).

2. Највисока температура во Азија е измерена во **Тират Зви** (+ 54°Ц).

3. Најврнежливо место во Азија е градот **Чарапунци**

4. Монсоните во топлиот дел на годината дуваат од **океаните кон Јужна и Југоисточна Азија**

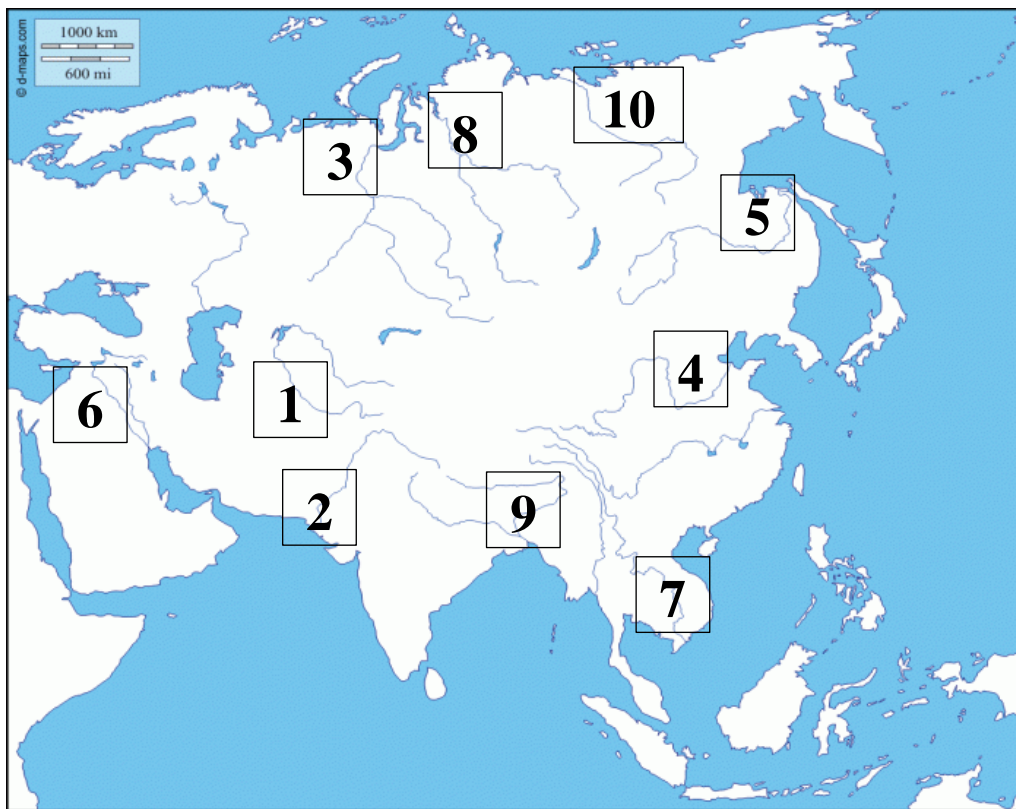
5. Тајфуните (тропските циклони) настануваат најчесто за време на **смената на летната и зимската сезона,**

7. Дополни ја реченицата. **(секоја точен одговор носи 1 поен)**

Во умерениот топлински појас на азискиот континент се застапени повеќе климатско-вегетациски типови: **влажен континентален тип, континентално-степски тип, пустински и суптропски тип.**

8. На немата карта означи ги со соодветен број дадените реки. **(секоја точен одговор носи 1 поен)**

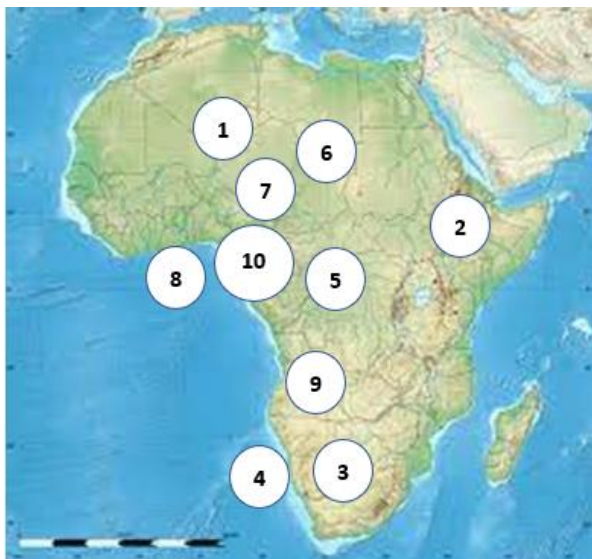
1. Аму Дарја; 2. Инд; 3.Об; 4. Хоангхо; 5.Амур; 6.Еуфрат; 7.Меконг; 8.Енисеј; 9.Ганг; 10.Лена



9. Коие се главните градови на трите најголеми држави во регионот Источна Азија?
(секоја точен одговор носи 1 поен)

Пекинг, Токио и Сеул

10. На релјефната карта со соодветниот број означи каде се наоѓаат соодветните поими.



1. Планината Ахагар; 2. Етиопските планини; 3. Пустина Калахари; 4. Намибиска Пустина; 5. Басенот на Конго; 6. Сахара; 7. Низините околу езерото Чад; 8. Низините кај Гвинејскиот залив; 9. Висорамнините во Ангола; 10. Камерунските планини

11. Напиши ги соодветните поими од бреговата разгранетост на Африка кои се дадени на картата. (Секој одговор носи по 1 еден поен)

	<p>A: Сомалиски Полуостров Б: ртот Добра Надеж В: Мадагаскар Г: Гвинејски Залив Д: Сејшелски острови Ѓ: полуостровот Тунис Е: заливот Сидра Ж: Суецки Канал З: Боб ел Мандеб S: Габескиот Залив</p>
--	--

12. Напиши ги хидрографските поими на соодветното место на нејната карта. (Рудолфово езеро; езеро Њаса; езеро Викторија; езеро Тангањика; езерото Чад; Албертово езеро; река Сенегал; река Орање; река Џуба; река Нигер)



13. Одговори на следните прашања. (Секој одговор носи по 1 еден поен)

а) Кои две големи пустини се наоѓаат на Арабскиот Полуостров?

Одговор: **Голем Нефуд и Руб ел Хали**

б) Од кои две реки се формира реката Шат ел Араб?

Одговор: **Тигар и Еуфрат**

в) Во кои делови на Азија најмногу е застапен Земјениот гас, како важно природно богатство?

Одговор: **Северните делови на Сибир и Западносибирската Низина**

г) За кои простори на Азија е карактеристична Малајската група на народи?

Одговор: **Источна и Југоисточна Азија**

д) Напиши ја најголемата држава по површина за секој од дадените регионални целини на Азија.

Источна Азија – Кина; Југоисточна Азија – Индонезија;

14. Напиши ги имињата на морските струи прикажани на картата.

(Секој одговор носи по 1 еден поен)

А. ладната Канарска струја

Б. топлата Гвинејска струја

15. Одговори на следните прашања. (Секој одговор носи по 1 еден поен)

1. Каква клима има во басенот на реката Конго и во Горна Гвинеја?

Изразита екваторска клима или екваторска клима

2. Во кои климатски појаси во Африка се јавуваат пустините?

Суптропските климатски појаси

3. На кој слив во Африка припаѓа реката Шари?

Сливот на затворено сливно подрачје на езерото Чад

4. Од кое езеро истекува реката Бел Нил? **езерото Викторија**

5. Кој растителен предел се наоѓа помеѓу Екваторските шуми и Степите?

Саваните

6. Колкав е природниот прираст во последната деценија во Африка? **25 %.**

7. Колку изнесува просечната густина на населеност во Африка? **46 жители на 1 км²**

8. Која е најголема држава според бројот на население во Северна Африка? **Египет**