



## VII (të shtatë)

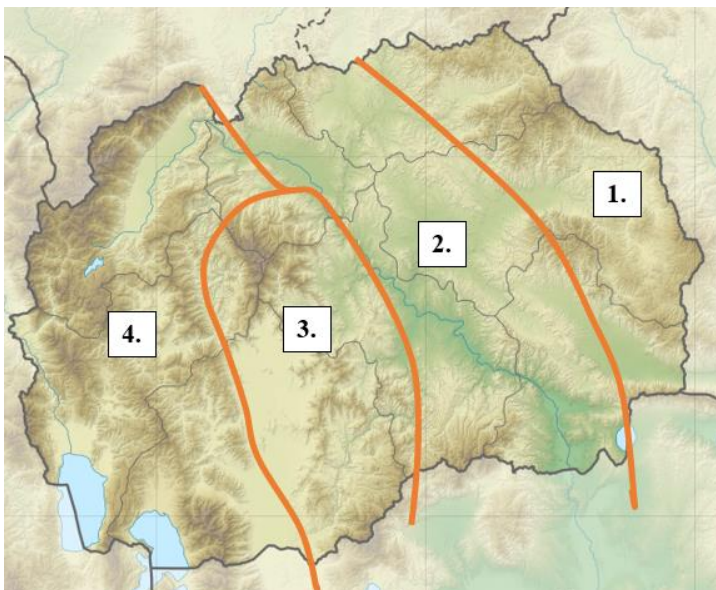
Viti shkollor 2023/2024

1. Shkruani emrat e vendkalimeve kufitare në vendin e duhur në hartën bosh. (çdo përgjigje e saktë është 1 një pikë)



|    |            |     |               |
|----|------------|-----|---------------|
| 1. | Bllacë     | 2.  | Dellçevë      |
| 3. | Qafëthanë  | 4.  | Bllatë(Dibër) |
| 5. | Mexhitlija | 6.  | Deve Bair     |
| 7. | Bogorodica | 8.  | Tabanovcë     |
| 9. | Novo Sellë | 10. | Dojrani       |

2. Në hartën e zbrazët(memece), ndani ato me vija dhe shënoni zonat e veçanta tektonike në Republikën e Maqedonisë së Veriut. (1. Zona e Rodopit Lindor; 2. Zona e Vardarit; 3. Zona e Pellagonisë; 4. Zona e Maqedonisë Perëndimore) (çdo përgjigje e saktë vlen 2 dy pikë)



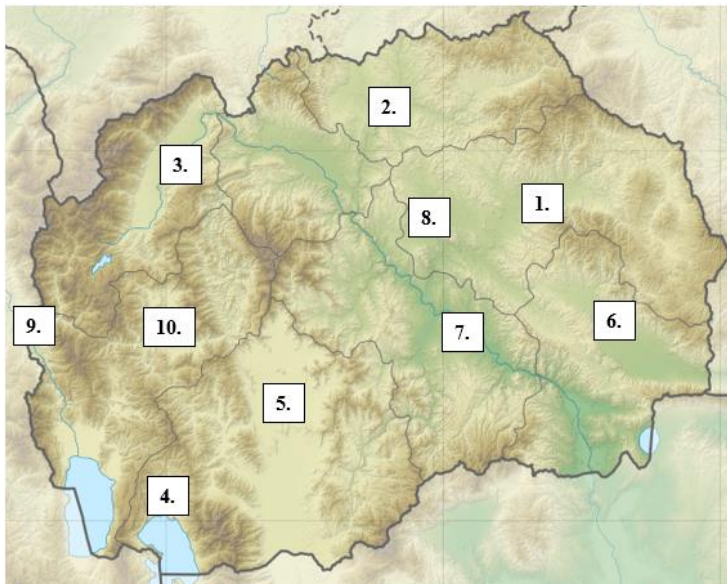
3. Shkruani zonën tektonike të cilës i përket secili nga malet e listuara. (çdo përgjigje e saktë është 1 një pikë)

| Mali               | Zonë tektonike                |
|--------------------|-------------------------------|
| Malet e Maleshevës | Zona e Rodopit Lindor         |
| Babuna             | Zona e Pellagonisë            |
| Busheva            | Zona e Maqedonisë Perëndimore |
| Gradeshka          | Zona e Vardarit               |
| Vllaina            | Zona e Rodopit Lindor         |
| Shkupi Mali i Zi   | Zona e Vardarit               |
| Stogova            | Zona e Maqedonisë Perëndimore |
| Golaku             | Zona e Rodopit Lindor         |
| Ograzhdeni         | Zona e Rodopit Lindor         |
| Nixhe me Kozjakun  | Zona e Pellagonisë            |

4. Në hartën e zbrazët, shënoni luginat e mëposhtme me numrat e duhur:

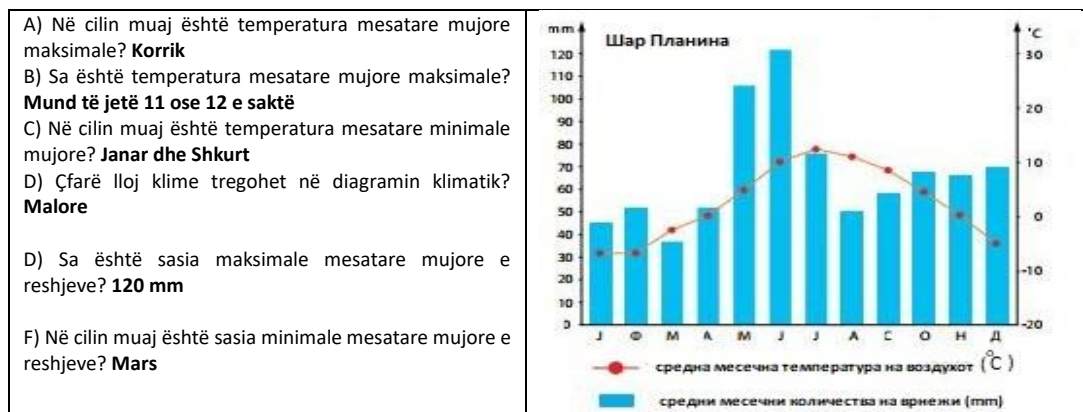
1. F. E Koçanit; 2. F. E Kumanovës; 3. F. e Pollogut; 4.F. e Prespës; 5.F. e Pellagonisë; 6. F. e Strumicës; 7. F. e Radovishit; 8. F. e Tikveshit; 9.F. e Ovçe Poles; 10. F. e Kërçovës.

(çdo përgjigje e saktë vlen 1 një pikë)



5. Përgjigjuni pyetjeve të mëposhtme me ndihmën e diagramit klimatik të shfaqur (një paraqitje grafike e klimës në një zonë të caktuar):

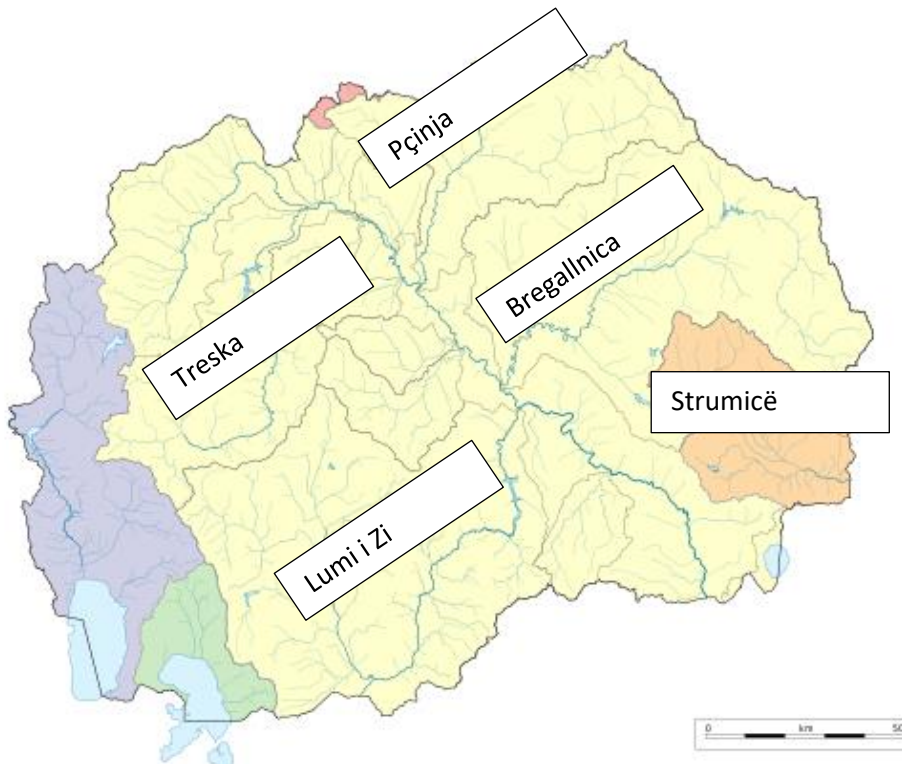
(çdo përgjigje e saktë vlen 2 dy pikë)



6. Listoni llojet e përshtatshme të klimës për secilën zonë të dhënë në tabelë. (çdo përgjigje e saktë është 1 një pikë)

| Hapësira gjeografike   | Lloji i klimës                |
|------------------------|-------------------------------|
| Lugina e Pollogut      | Klima mesatare kontinentale   |
| Ultësira e Pellagonisë | Klima mesatare kontinentale   |
| Demir Kapia            | Klima mesdhetare e modifikuar |
| Ovçe Pole              | Klima mesatare kontinentale   |
| Ultësira e Maleshevisë | Klima mesatare kontinentale   |
| Gjevgjelia             | Klima mesdhetare e modifikuar |
| Resnja                 | Klima mesatare kontinentale   |
| Vallandovë             | Klima mesdhetare e modifikuar |
| Kavadari               | Klima mesatare kontinentale   |
| Strumica               | Klima mesdhetare e modifikuar |

7. Shkruani emrat e lumenjve në tabelë sipas përshkrimit të dhënë dhe shënojeni në hartën e zbrazët në vendin përkatës. (çdo përgjigje e saktë vlen 2 dy pikë)



|    | Përshkrimi i lumit                                | Emri i lumit |
|----|---|--------------|
| 1. | Ka një gjatësi prej 225 km.                       | Bregalnica   |
| 2. | Ai rrjedh nëpër Klisurën e gjatë të Shishevës.    | Treska       |
| 3. | Në Stobi derdhet në lumin Vardar.                 | Lumi i Zi    |
| 4. | E dyta për nga madhësia, dega e majtë e Vardarit. | Pčinja       |
| 5. | I përket pellgut të Egjeut.                       | Strumicë     |

8. Plotësoni deklaratën e mëposhtme. (çdo përgjigje e saktë është 1 një pikë)

Liqeni i Prespës ndodhet në pjesën **jugperëndimore** të Republikës së Maqedonisë së Veriut, në **Luginën e Prespës**, midis maleve të **Galiçicës** në perëndim dhe **Babës me Pelisterin** në lindje. Ndodhet në **853 m** mbi nivelin e detit. Përfshin një sipërfaqe prej **275 km<sup>2</sup>** me një thellësi rreth 50 m. Një pjesë më e madhe e liqenit i përket Republikës së Maqedonisë së Veriut, ndërsa pjesë më të vogla ndodhen në **Greqi** dhe **Shqipëri**. Ishulli Golem Grad ndodhet në të.

9. Në hartën e zbrazët, shkruani emrat e qyteteve të mëdha në Republikën e Maqedonisë së Veriut në vendin përkatës. (çdo përgjigje e saktë vlen 2 dy pikë)



10. Përcaktoni termat e mëposhtëm: (çdo përgjigje e saktë vlen 2 dy pikë)

Struktura gjinore **paraqet raportin ndërmjet popullsisë mashkullore dhe femërore në një zonë të caktuar.**

Struktura e moshës **paraqet një element demografik që tregon përfaqësimin e grupmoshave.**

Struktura ekonomike **paraqet një element demografik që popullsia e konsideron sipas veprimtarisë së saj.**

Struktura etnike **paraqet perceptimin e përfaqësimit të bashkësive etnike në popullatën e përgjithshme.**

Migrimi është **lëvizja e popullsisë nga një vend banimi në tjetrin.**