



## КЛУЧ ЗА ДРЖАВЕН НАТПРЕВАР ПО ГЕОГРАФИЈА

ЗА VIII ОДДЕЛЕНИЕ, Учебна 2022/2023 година

1. Замисли си дека пловиш со брод на релација Бари – Хелсинки со комбинирање на морско/речен пловен пат. Дополни ги локациите кои мора да ги поминеш на твојата пловидба. **10x1**

Започнуваш од пристаништето Бари на брегот на **ЈАДРАНСКО** Море, пловиш кон југ поминуваш низ Отранската Врата, која ги одделува Балканскиот од **АПЕНИНСКИОТ** Полуостров и наместо да го заобиколиш Пелопонез поминуваш низ **КОРИНТСКИОТ** Канал. Сега се наоѓаш во водите на **ЕГЕЈСКО** Море. Од овде продолжуваш кон североисток, поминуваш низ протокот **ДАРДАНЕЛИ**, навлегуваш во Мраморно Море, поминуваш низ протокот **БОСФОР** и навлегуваш во Црно Море. Пловиш кон североисток и преку протокот Керч навлегуваш во **АЗОВСКО** Море, а од таму преку реката **ДОН** и вештачки канал навлегуваш во Волга. Пловиш узводно по реката и низ серија на канали и помали реки пристигнуваш до езерото Ладога. Пловиш по езерската истека, односно реката **НЕВА**, поминуваш низ градот **САНК ПЕТЕРБУРГ**, навлегуваш во Финскиот Залив и пристигнуваш во градот Хелсинки.

2. Во кои мориња/заливи се влеваат следниве реки? **7x1**

Северна Двина **БЕЛО** Море

Западна Двина **РИШКИ** Залив

Дњепар **ЦРНО** Море

Печора **БАРЕНЦОВО** Море

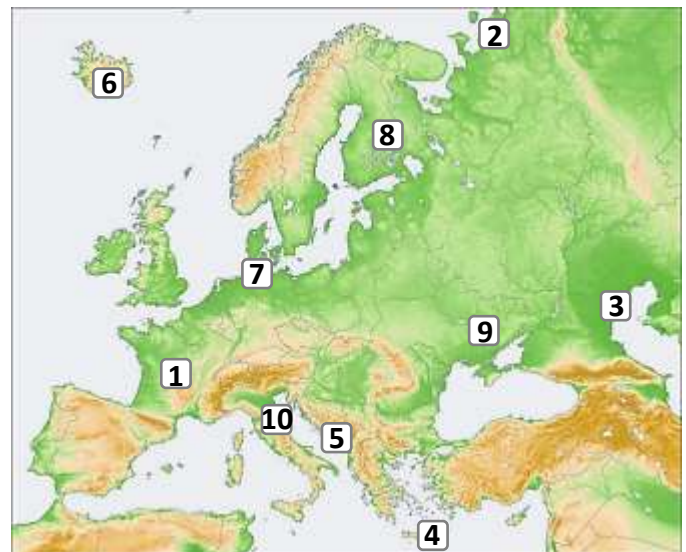
Жиронда **БИСКАЈСКИ** Залив

Дрим **ЈАДРАНСКО** Море

Лаба **СЕВЕРНО** Море

3. Разгледај ја картата на Европа и запиши ги бројчињата на дадените поими во празните полиња на картата. **10x1**

1-грамадни планини    2-тундра    3-делта    4-Крит  
5-Бока Которска    6-ледници    7-Килски канал  
8-тајги    9-најголема нуклеарна централа  
10-минијатурна држава



4. Наброј четири држави од Средна Европа кои немаат излез на море? **4x1**

**АВСТРИЈА, ШВАЈЦАРИЈА, ЧЕШКА, СЛОВАЧКА, ЛИХТЕНШТАЈН ИЛИ УНГАРИЈА.**

5. Наброј две држави во Западна Европа кои според државното уредување се монархии и две држави кои се републики? **4x1**

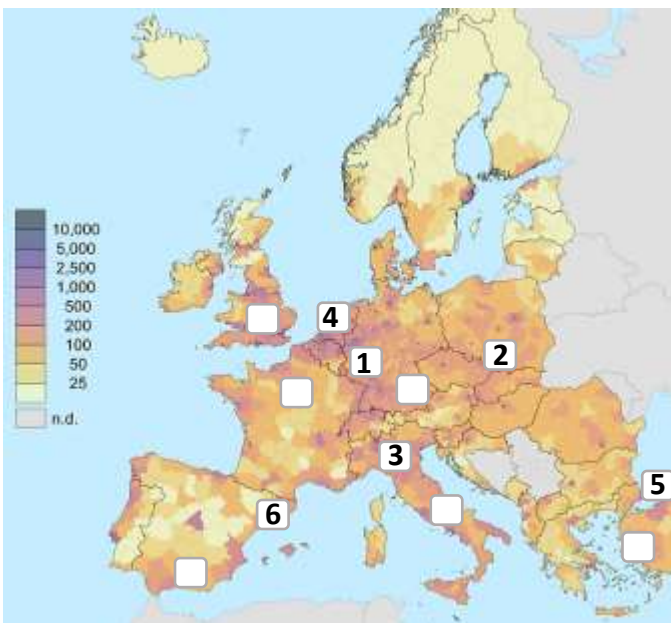
Монархија **ВЕЛИКА БРИТАНИЈА, БЕЛГИЈА, ЛУКСЕМБУРГ, ХОЛАНДИЈА**

Република **ИРСКА, ФРАНЦИЈА**

6. Размести ги бројчињата од наведените простори на соодветното место на картата која ја претставува густината на населеност во Европа, а се однесуваат на едни од најгусто населените простори на континентот. **6x1**

(Внимавај, на картата се прикажани повеќе полиња од потребните. Секое бројче запиши го само на едно место на картата!).

- 1-Сар 2-Шлезија 3-Ломбардија  
4-Холандија 5-Истанбул 6-Каталонија



7. Заокружи два града од регионот на Источна Европа, кои се наоѓаат на најниска надморска височина? **2x1**

Варшава, Минск, Одеса, Москва, Киев,

Талин, Вилнус, Кишињев, Хелсинки, Букурешт.

8. Подреди ги просторите во соодветната климатско-вегетациона област.

Влашка Низина, Нова Земја, Јиланд, Корзика, Ирска, Источно-европска Низина, Шпицбершки Острови, Крф.

**8x0,5=4**

Субполарна НОВА ЗЕМЈА, ШПИЦБЕРШКИ ОСТРОВИ

Атлантска ЈИЛАНД, ИРСКА

Континентална ВЛАШКА НИЗИНА, ИСТОЧНО-ЕВРОПСКА

Суптропска КОРЗИКА, КРФ

9. Подреди ги островите или островските групи во државата на која припаѓаат. **12x0,5=6**

Хвар, Споради, Крф, Канарски Острови, Мадеира, Корзика, Шетлански Острови, Готланд, Фарски Острови, Балеарски Острови, Брач, Азорски Остр.

Шпанија КАНАРСКИ ОСТРОВИ, БАЛЕАРСКИ ОСТРОВИ

Данска ФАРСКИ ОСТРОВИ

Португалија МАДЕИРА, АЗОРСКИ ОСТРОВИ

Грција СПОРАДИ, КРФ

Хрватска ХВАР, БРАЧ

Франција КОРЗИКА

Велика Британија ШЕТЛАНДСКИ ОСТРОВИ

Шведска ГОТЛАНД

10. После секоја наведена констатација заокружи Т (точно) или Н (неточно). **12x1**

Покрај Северно Море се врши експлоатација на јаглен.	Т	<u>Н</u>
Франција произведува електрична енергија со согорување на јаглен.	Т	<u>Н</u>
Шведска има геотермална енергија.	Т	<u>Н</u>
Скоро целокупното производство на електрична енергија на Норвешка отпаѓа на хидроенергијата.	<u>Т</u>	Н
Во Данска е развиено сточарството.	<u>Т</u>	Н
Во Финска е развиено полјоделството.	Т	<u>Н</u>
Исланд е голем производител на градинарски култури.	Т	<u>Н</u>
Повеќе од половина од производството на електрична енергија во Словачка се добива од нуклеарните центри.	<u>Т</u>	Н
Во Швајцарија се наоѓа ледникот Алеч.	<u>Т</u>	Н
Во Украина се наоѓа Лапонија.	Т	<u>Н</u>
Русија излегува на Балтичко Море.	<u>Т</u>	Н
Кишињев е главен град на Молдавија.	<u>Т</u>	Н

11. Градот Минхен се наоѓа на БАВАРСКАТА

Висорамнина, а западно од неа е планината

Шварцвалд од каде извира реката ДУНАВ, која поминува низ вкупно 9 држави. **3x1**

12. Распореди ги дадените географски поими во државата каде припаѓаат. **20x0,5=10**

Бохемија, Бон, Гетеборг, Централен Масив, Шкотска, Арагонија, Крањска Гора, Виена, Морава, Бајкалско Езеро, Гренобл, Ајфел, Баскија, Пенински Планини, Кируна, Владивосток, Копаоник, Караванки, Карлови Вари, Кицбил.

Србија **КОПАОНИК, МОРАВА**

Словенија **КРАЊСКА ГОРА, КАРАВАНКИ**

Шпанија **АРАГОНИЈА, БАСКИЈА**

Франција **ЦЕНТРАЛЕН МАСИВ, ГРЕНОБЛ**

Велика Британија **ПЕНИНСКИ ПЛАНИНИ, ШКОТСКА**

Шведска **КИРУНА, ГЕТЕБОРГ**

Германија **БОН, АЈФЕЛ**

Русија **БАЈКАЛСКО ЕЗЕРО, ВЛАДИВОСТОК**

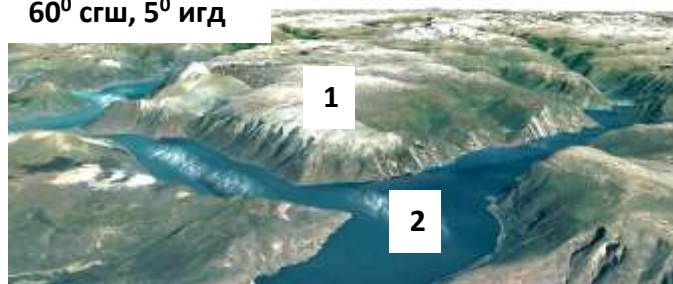
Австрија **КИЦБИЛ, ВИЕНА**

Чешка **БОХЕМИЈА, КАРЛОВИ ВАРИ**

13. Со користење на картата на Европа одреди ја локацијата на прикажаните слики од Google Earth и одговори на прашањата. **9x1**




**60° сгш, 5° игд**



Локацијата е во државата **НОРВЕШКА**, а на сликата под број 2 забележувате залив наречен **ФЈОРД**, а под број 1 висорамнини наречени **ФЈЕЛДИ**.

**55° сгш, 12° игд**



Локацијата е кај теснецот Ересунд. Кај бројот 1 се наоѓа главниот град на државата **ДАНСКА**, тоа е градот **КОПЕНХАГЕН**, а кај бројот 2 е градот **МАЛМЕ**.

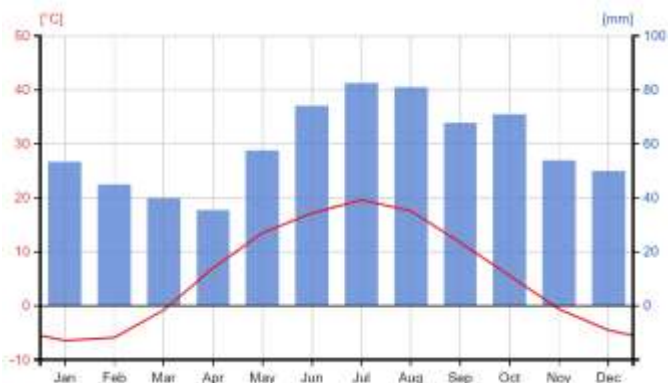
**45° сгш, 12° игд**



Локацијата е во **ЛОМБАРДИСКАТА** Низина низ која тече најголемата река **ПО** означена со број 1, а со број 2 е означен туристичкиот град изграден на вода **ВЕНЕЦИЈА**.

14. Анализирај ги дадените климатски графикони на кои со сини столбови е прикажано количеството на врнежи, а со црвена линија е прикажана просечната температура на воздухот во конкретниот месец од годината. Од наведените градови во Европа, **одбери по два градови** и запиши ги на линијата под графиконите каде најмногу одговараат на климатскиот тип. **4x1**

Скопје, Лондон, Москва, Париз, Загреб,  
Копенхаген, Атина, Милано, Одеса, Киев, Рим.



**МОСКВА И КИЕВ**

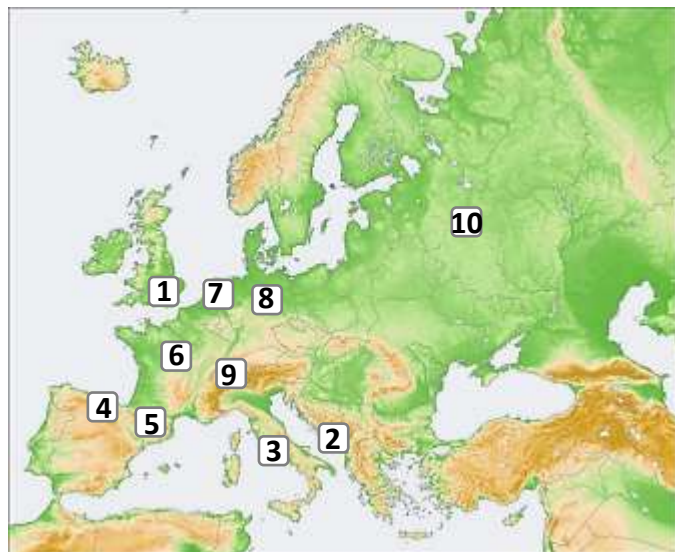


**АТИНА И РИМ**

15. На картата на Европа внесете ги бројчињата на местата каде најмногу одговараат. **10x0,5=5**

1. Најпрометен аеродром во Европа.
2. Најврнежливо место во Европа.
3. Седиште на Католичката црква.
4. Се говори баскиски јазик.
5. Највисок главен град во Европа.
6. Најголем производител на нуклеарна енергија.
7. Живеат на полдери.

8. Најголем извозник на автомобили во Европа.
9. Банкарството е носител на економијата.
10. Најдолгата железничка линија во светот.



16. Размести ги првите букви од наведените природни богатства на соодветното место во Европа каде што најмногу се среќаваат?

**Внимавај, сите полиња на картата треба да бидат пополнети со одреден симбол! 8x0,5=4**

Н - нафта, Ј - јаглен, Ш - шуми, П - плодна почва,  
Х - хидроенергија, Г - геотермална енергија.

