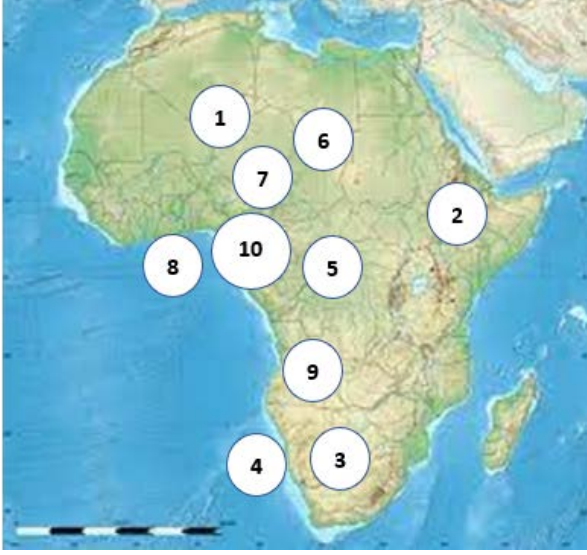




2022/2023 Eğitim Yılı

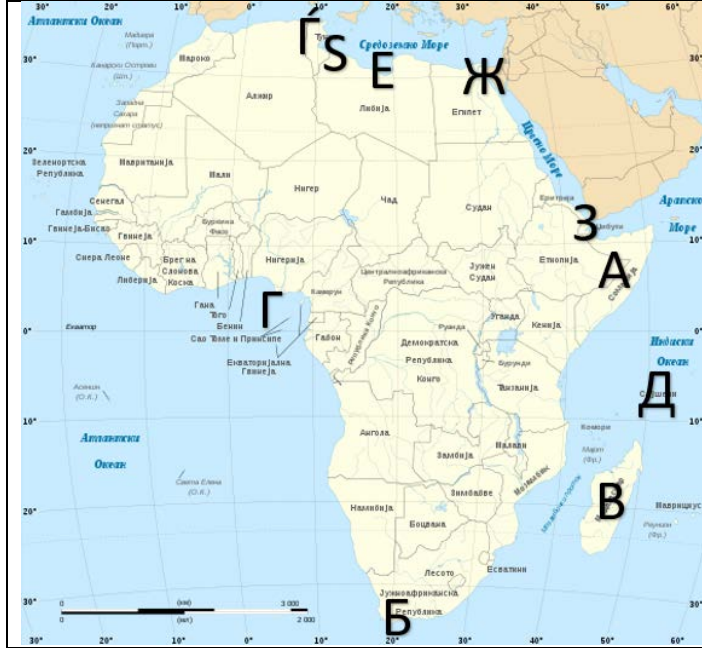
IX (Dokuzuncu) Sınıflar Coğrafya Bölgesel Yarışma Testi Cevap Anahtarı

1. Rölyef (yerşekilleri) haritasında, karşılık gelen numara ile ilgili terimlerin bulunduğu yeri işaretleyin
(Her doğru cevap 1 puan)



1. Ahagar Dağı; 2. Etiyopya dağları; 3. Kalahari Çölü; 4. Namibya Çölü; 5. Kongo Havzası; 6. Sahra; 7. Çad Gölü çevresindeki ovalar; 8. Gine Körfezi yakınlarındaki ovalar; 9. Angola'nın yaylaları; 10. Kamerun dağları

2. Haritada verilen Afrika kıyılarının karşılık gelen terimlerini yazınız.
(Her doğru cevap 1 puan)



- A: Somali Yarımadası
- B: Ümit Burnu
- C: Madagaskar
- Ç: Gine Körfezi
- D: Seyşeller Adaları
- E: Tunus Yarımadası
- F: Sidra Körfezi
- G: Süveyş Kanalı
- H: Bob el Mandeb
- I: Gabes Körfezi

3. Hidrografik terimleri boş haritada uygun yerlere yazınız.

(Rudolph Gölü; Nyasa Gölü; Viktoria Gölü; Tanganyika Gölü; Çad Gölü; Albert Gölü; Senegal Nehri; Oranye Nehri; Yuba Nehri; Nijer Nehri)

(Her doğru cevap 1 puan)



4. Aşağıdaki soruları cevaplayın. (Her doğru cevap 1 puan)

a) Arap Yarımadası'nda hangi iki büyük çöl bulunur?

Cevap: **Büyük Nefud ve Rub el Khali**

b) Shat el Arab nehri hangi iki nehirden oluşur?

Cevap: **Dicle ve Fırat**

c) Önemli bir doğal kaynak olarak, Asya'nın hangi bölgelerinde en yoğun doğal gaz bulunmaktadır?

Cevap: **Sibirya'nın kuzey kesimleri ve Batı Sibirya Ovası**

d) Malay halk grubu Asya'nın hangi bölgeleri için karakteristiktir?

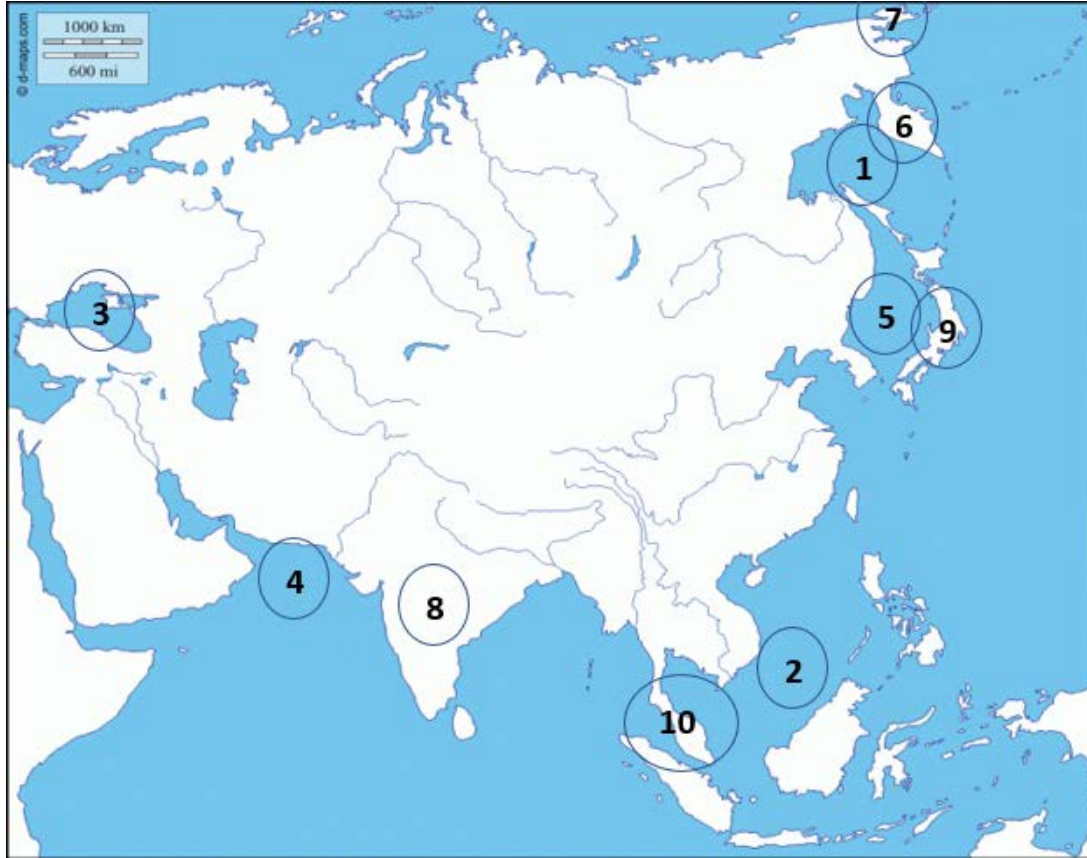
Cevap: **Doğu ve Güneydoğu Asya**

e) Asya'nın verilen bölgesel birimlerinin her biri için, bölgenin en büyük ülkesini yazın.

Doğu Asya – Çin; Güneydoğu Asya – Endonezya;

5. Boş haritada işaretlenen sayıların her biri için uygun terimleri yazınız (denizler, koylar, geçitler, adalar, yarımadalar) **(Her doğru cevap 1 puan)**

1: Okhotsk Denizi; 2: Güney Çin Denizi; 3: Karadeniz; 4: Umman Denizi; 5: Japonya Denizi; 6: Kamçatka;
7: Çukçî Yarımadası; 8: Hint Yarımadası; 9: Japon Adaları; 10: Malay Yarımadası



6. Verilen iklim tiplerini uygun alana yazınız.

(Tropikal iklim, Subtropikal iklim, Subpolar iklim, Yarı çöl/çöl, Ekvator iklimi, Çöl iklimi) **(Her doğru cevap 1 puan)**

Bölge	İklim türü
-------	------------

Labrador Yarımadası	Subpolar iklimi
Florida Yarımadası	Subpolar iklimi
Teksas ve Arizona	Yarıçöl/Çöl
Karayib Denizi	Tropikal iklim
Fuego Bölgesi	Subtropikal iklim
Brezilya Yaylaları	Subtropikal iklim
Atacama	Çöl iklimi
Guanay Dağları	Ekvator iklimi
Meksika körfezi	Tropikal iklim
Ekvador	Ekvator iklim

7. Boş haritada işaretlenen sayıların her birine karşılık gelen terimleri yazın. **(Her doğru cevap 1 puan)**

1. Apalaş Dağları; 2. Meksika Körfezi; 3. Labrador; 4. Alaska; 5. Yucatan Yarımadası; 6. Hudson Denizi; 7. Kıyı dağları; 8. Kayalık Dağlar; 9. Florida Yarımadası; 10. Kaliforniya Yarımadası



8. Amerika'daki Büyük Göller grubunu oluşturan gölleri listele.

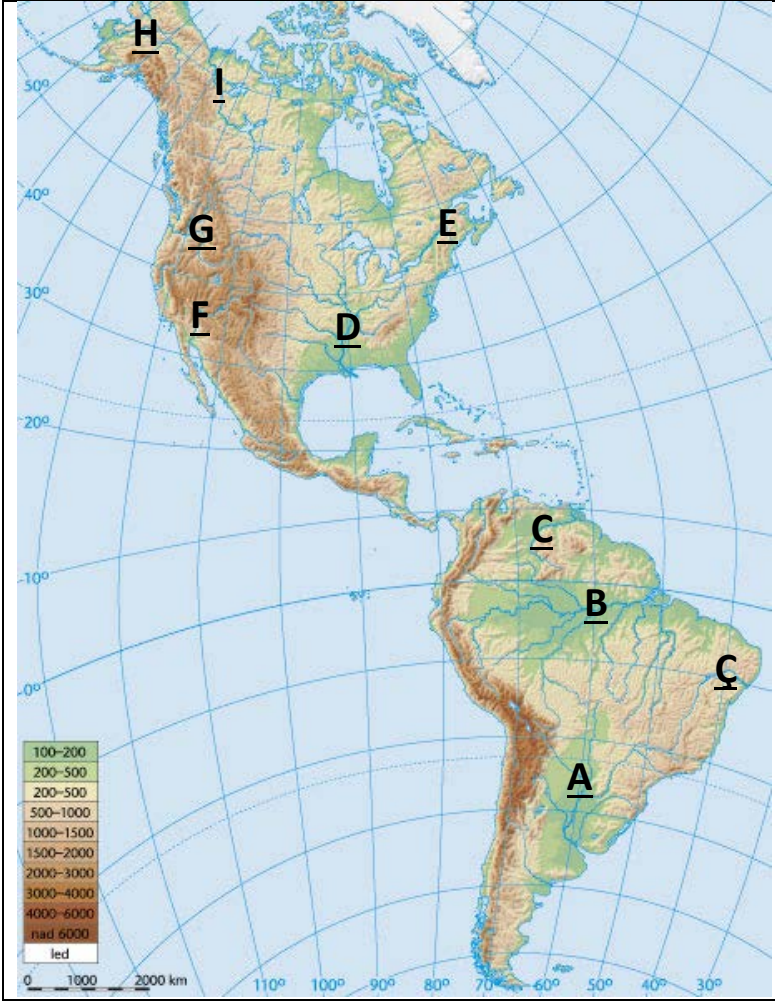
Cevap: Yukarı göl, Michigan, Huron, Erie ve Ontario
(Her cevap 2 puan)

9. Boş haritadaki her bir sayıya karşılık gelen ülkelerin adlarını yazınız. **(Her doğru cevap 1 puan)**

1.	Brezilya	6.	Peru
2.	Arjantin	7.	Kolombiya
3.	Bolivya	8.	Ekvador
4.	Şili	9.	Paraguay
5.	Venezuela	10.	Uruguay



10. Haritada nehirlerin yerlerini, karşılık gelen harfle işaretleyin.
(Her cevap 1 puan taşır)



- A: Parana
- B: Amazon
- C: Orinoko
- Ç: San Francisco
- D: Mississippi
- E: Sen Lawrence
- F: Kolorado
- G : Kolombiya
- H: Yukon
- I: Mackenzie