

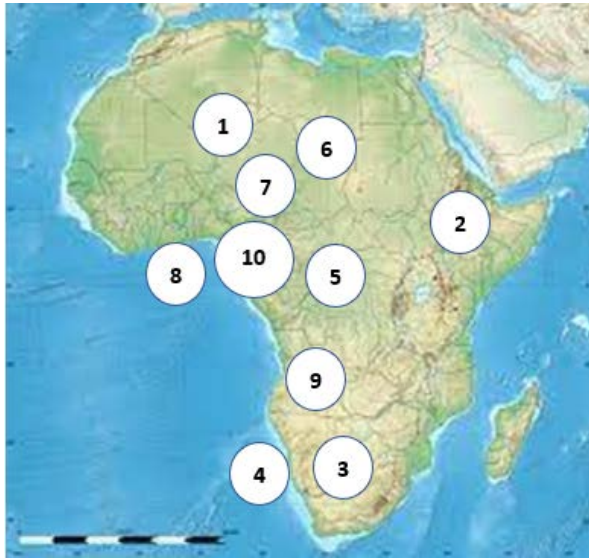


Клуч за тест за регионален натпревар по гегорграфија за IX (девето) одд.

Учебна 2022/2023 година

1. На релјефната карта со соодветниот број означи каде се наоѓаат соодветните поими.

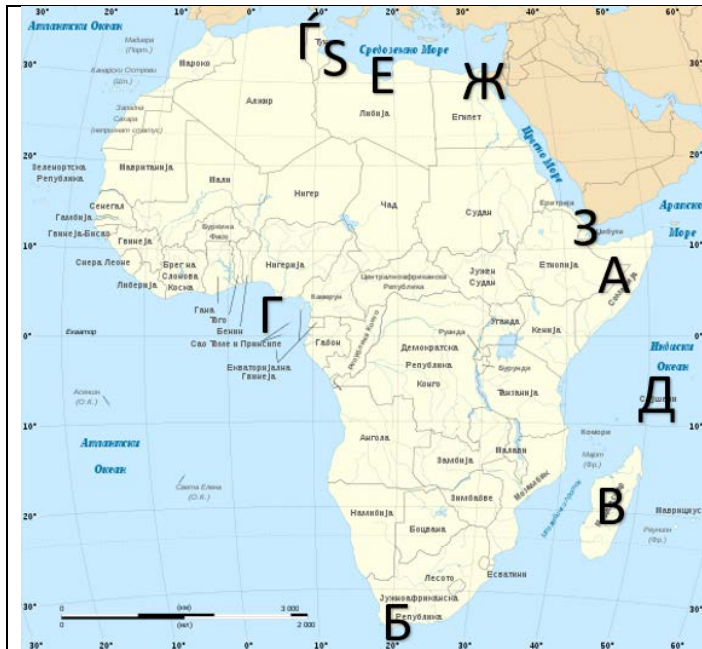
(Секој одговор носи по 1 еден поен)



1. Планината Ахагар; 2. Етиопските планини; 3. Пустина Калахари; 4. Намибиска Пустина; 5. Басенот на Конго; 6. Сахара; 7. Низините околу езерото Чад; 8. Низините кај Гвинејскиот залив; 9. Висорамнините во Ангола; 10. Камерунските планини

2. Напиши ги соодветните поими од бреговата разгранетост на Африка кои се дадени на картата.

(Секој одговор носи по 1 еден поен)



- А: Сомалиски Полуостров
- Б: ртот Добра Надеж
- В: Мадагаскар
- Г: Гвинејски Залив
- Д: Сејшелски острови
- Ѓ: полуостровот Тунис
- Е: заливот Сидра
- Ж: Суецки Канал
- З: Боб ел Мандеб
- С: Габескиот Залив

3. Напиши ги хидрографските поими на соодветното место на немата карта.

(Рудолфово езеро; езеро Њаса; езеро Викторија; езеро Тангањика; езерото Чад; Албертово езеро; река Сенегал; река Орање; река Џуба; река Нигер)

(Секој одговор носи по 1 еден поен)



4. Одговори на следните прашања. (Секој одговор носи по 1 еден поен)

а) Кои две големи пустини се наоѓаат на Арабскиот Полуостров?

Одговор: **Голем Нефуд и Руб ел Хали**

б) Од кои две реки се формира реката Шат ел Араб?

Одговор: **Тигар и Еуфрат**

в) Во кои делови на Азија најмногу е застапен Земјениот гас, како важно природно богатство?

Одговор: **Северните делови на Сибир и Западносибирската Низина**

г) За кои простори на Азија е карактеристична Малајската група на народи?

Одговор: **Источна и Југоисточна Азија**

д) Напиши ја најголемата држава по површина за секој од дадените рргионални целини на Азија.

Источна Азија – Кина; Југоисточна Азија – Индонезија;

5. Напиши ги соодветните поими за секој од броевите означени на нејата карта (мориња, заливи, премини, острови, полуострови) (Секој одговор носи по 1 еден поен)

1: Охотско Море; 2: Јужно Кинеско Море; 3: Црно Море; 4: Арабско Море; 5: Јапонско Море; 6: Камчатка; 7: Чукотски Полуостров; 8: Индиски Полуостров; 9: Јапонски острови; 10: Малајски Полуостров



6. Дадените климатски типови напиши ги кај соодветната област.

(Тропска клима, Суптропска клима, Супполарна клима, Полупустинска/пустинска, Екваторска клима, Пустинска клима) **(Секој одговор носи по 1 еден поен)**

Област	Климатски тип
Полуостров Лабрадор	Супполарна клима
Полуостров Флорида	Суптропска клима
Тексас и Аризона	Полупустинска/пустинска
Карипско Море	Тропска клима
Огнена Земја	Супполарна клима
Бразилска Висорамнина	Суптропска клима
Атакама	Пустинска клима
Гванајски Планини	Екваторска клима
Мексикански Залив	Тропска клима
Еквадор	Екваторска клима

7. Напиши ги соодветните поими за секој од броевите означени на немата карта. (планини, низини, полуострови, заливи, мориња) **(Секој одговор носи по 1 еден поен)**

1. Апалачки планини; 2. Мексикански Залив; 3. Лабрадор; 4. Алјаска; 5. Полуостров Јукатан; 6. Хадсоново море; 7. Приморски планини; 8. Карпести планини; 9. Полуостров Флорида; 10. Полуостров Калифорнија



8. Наброј ги езерата кои ја сочинуваат групата на Големи Езера во Америка.

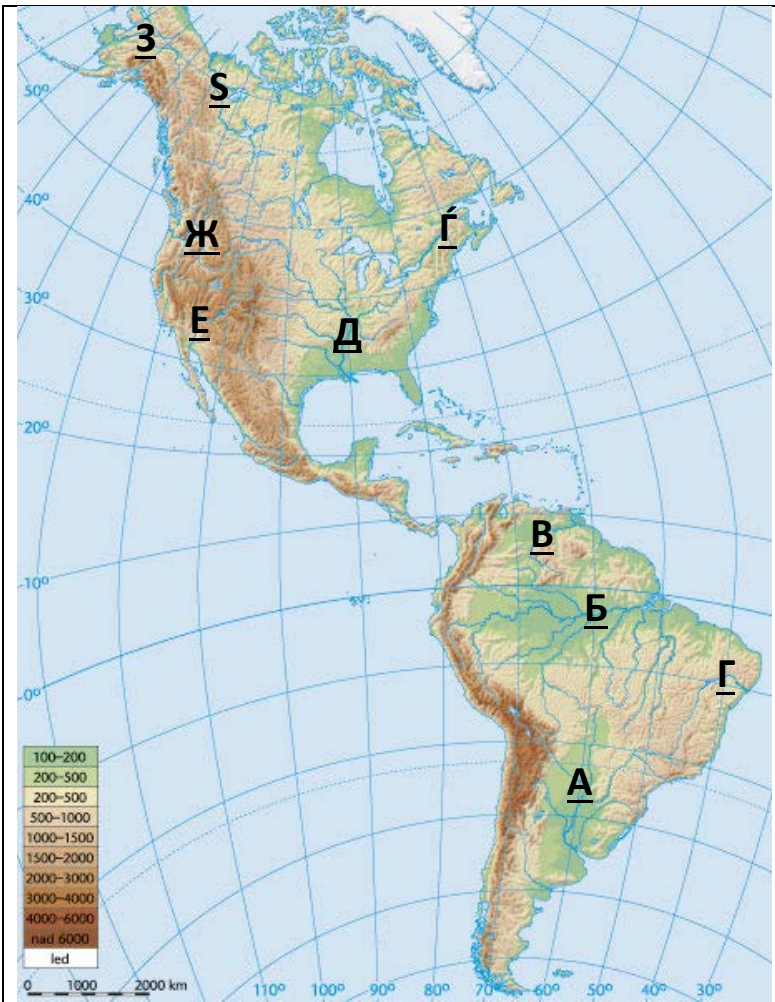
Одговор: Горно Езеро, Мичиген, Хјурон, Ири и Онтарио
 (Секој одговор носи по 2 еден поен)

9. Напиши ги имињата на државите кои одговараат на секој број од немата карта
 (Секој одговор носи по 1 еден поен)

1.	Бразил	6.	Перу
2.	Аргентина	7.	Колумбија
3.	Боливија	8.	Еквадор
4.	Чиле	9.	Парагвај
5.	Венецуела	10.	Уругвај



10. Означи ги местата на реките на немата карта со соодветната буква.
(Секој одговор носи по 1 еден поен)



- А: Парана
- Б: Амазон
- В: Ориноко
- Г: Сан Франциско
- Д: Мисисипи
- Ѓ: Сен Лоренс
- Е: Колорадо
- Ж: Колумбија
- З: Јукон
- Ѕ: Макензи